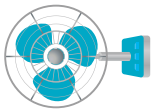


イラスト

$$8 + \square + \square + \square - \square - \square$$



1 ごりら

9 おしるこ

16 ライト

2 りんご

10 こおりみず

17 どうぞう

3 風鈴

11 エクレア

18 じゅーす

4 うきわ

12 ちきゅう

19 にっき

5 こおり

13 うきよえ

20 くり

6 あじさい

14 でんじは

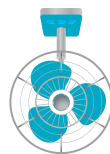
21 鳥居



15 スカート



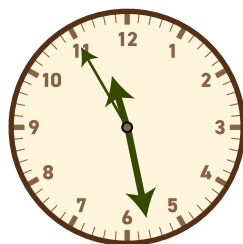
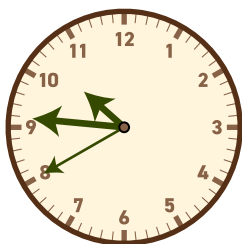
22 扉

7 まないた



23 ちきゅうぎ

8 海



$$\square - \square + \square - \square = ???$$

※扉3の謎は必ずWEBページを見ながら解いてください